



MUNICÍPIO DA ESTÂNCIA BALNEÁRIA DE PRAIA GRANDE

Estado de São Paulo
SEDUC - Secretaria de Educação

SEMANAS 9 e 10

SALA DE AULA



Disciplina: Matemática

1ª e 2ª séries da EJA

1. A PROFESSORA LETÍCIA PROPÔS AOS ALUNOS UMA GINCANA PARA ARRECADAÇÃO DE MATERIAIS RECICLÁVEIS. OBSERVE O QUE CADA ALUNO RECOLHEU, CONTE E REGISTRE A QUANTIDADE EM SEU CADERNO.




LUCAS

A



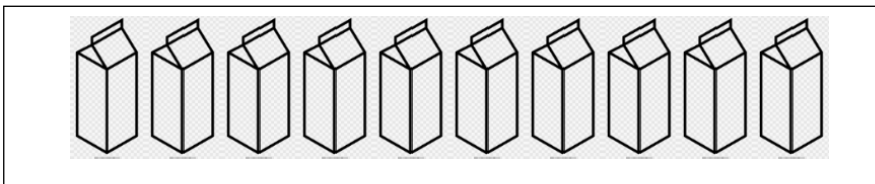
LARISSA

B



LUIZ

C



COM BASE NAS INFORMAÇÕES ACIMA, ASSINALE AS ALTERNATIVAS CORRETAS EM SEU CADERNO:

2. QUEM RECOLHEU A **MAIOR** QUANTIDADE DE LIXO?

- (A) LARISSA (B) LUCAS (C) LUIZ

3. QUEM RECOLHEU A **MENOR** QUANTIDADE DE LIXO?

- (A) LUIZ (B) LUCAS (C) LARISSA

4. QUAL A QUANTIDADE DE LIXO **TOTAL** ARRECADADO PELOS ALUNOS?

- (A) 54 (B) 28 (C) 10

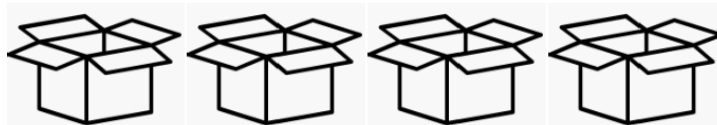
5. RESPONDA EM SEU CADERNO QUAL A **DIFERENÇA** ENTRE O LIXO RECOLHIDO POR LUCAS E LUIZ? CALCULE:

$$\underline{\hspace{2cm}} - \underline{\hspace{2cm}} = \underline{\hspace{2cm}}$$

6. EM UMA CESTA FORAM COLOCADAS 06 GARRAFAS DE VIDRO PARA SEREM LEVADAS AO ECOPONTO. CALCULE O TOTAL DE GARRAFAS QUE FORAM COLOCADAS EM 03 CESTAS IGUAIS.



7. A PROFESSORA LETÍCIA PRECISOU DISTRIBUIR AS 28 LATINHAS RECOLHIDAS POR LARISSA EM 04 CAIXAS DE PAPELÃO PARA SEREM LEVADAS AO ECOPONTO. CALCULE QUANTAS LATINHAS FICARAM EM CADA CAIXA.



8. OBSERVE A ILUSTRAÇÃO ABAIXO E RESPONDA AS QUESTÕES EM SEU CADERNO:






- (A) A CAIXA DE RECICLAGEM ESTÁ PERTO OU LONGE DA ALUNA?
(B) A CAIXA ESTÁ EM FRENTE OU ATRÁS DA ALUNA?
(C) AS GARRAFAS QUE ESTÃO NO CHÃO SE ENCONTRAM À DIREITA OU À ESQUERDA DA ALUNA?

**PONTE DO SABER**

1ª e 2ª séries da EJA

NO “**JOGO SEMPRE DEZ**”, NA SOMA DE DOIS NÚMEROS, O SEU RESULTADO DEVE SER SEMPRE DEZ. NEM MAIS, NEM MENOS!

1. NO **JOGO SEMPRE DEZ** DO MEIO AMBIENTE, MARIANA, DAVI E LUCAS SORTEARAM ALGUNS NÚMEROS INDICADOS ABAIXO. REGISTRE NO SEU CADERNO O TOTAL DE PONTOS QUE CADA UM DELES TIROU.

A	MARIANA		4	3	
B	DAVI		7	5	
C	LUCAS		6	4	

2. GANHA O JOGO QUEM FAZ 10 PONTOS. NESSE CASO, REGISTRE NO SEU CADERNO QUEM VENCEU O JOGO.
3. ASSINALE A ALTERNATIVA CORRETA NO SEU CADERNO. QUAL A DIFERENÇA ENTRE OS PONTOS DE DAVI E O LUCAS.
- (A) 2 (B) 4 (C) 3
4. QUEM FEZ MENOS PONTOS?
- (A) MARIANA (B) DAVI (C) LUCAS
5. REGISTRE NO CADERNO SEUS DADOS PESSOAIS SOLICITADOS:
- (A) IDADE.
- (B) DATA DE NASCIMENTO COMPLETA (DIA/MÊS/ANO)
- (C) NÚMERO DO TAMANHO DA CAMISA.
- (D) NÚMERO DO TAMANHO DA CALÇA
- (E) NÚMERO DO TAMANHO DO CALÇADO.
6. DESCUBRA O NÚMERO SECRETO EM CADA QUADRO E ANOTE AS RESPOSTAS EM SEU CADERNO:

(A) É MAIOR QUE 2.
É MENOR QUE 10.
ESTÁ ENTRE 4 E 6.

(B) É MAIOR QUE 10.
É MENOR QUE 20.
TERMINA COM 8.

(C) É MAIOR QUE 20.
É MENOR QUE 30.
É FORMADO POR
DOIS ALGARISMOS
IGUAIS.



7. DESCUBRA E REGISTRE EM SEU CADERNO O NÚMERO QUE ESTÁ COBERTO PELAS FIGURAS:

1		3		5		7		9	
11			14		16		18		20
	22	23		25		27		29	

	→	<input type="text"/>		→	<input type="text"/>		→	<input type="text"/>
	→	<input type="text"/>		→	<input type="text"/>		→	<input type="text"/>
	→	<input type="text"/>		→	<input type="text"/>		→	<input type="text"/>
	→	<input type="text"/>		→	<input type="text"/>		→	<input type="text"/>
	→	<input type="text"/>		→	<input type="text"/>		→	<input type="text"/>